

csipeszes

Mikulás-számlálgtató

maszatklub



Kíváncsi vagy, hogy egyetlen éjszaka alatt hány bögre kakaót fogyasztott el a Mikulás?
Vagy arra, hogy hány kéményen mászott be egyetlen rövidke utcában?

Számold meg és meséld el!



3

1

4



2

6

1



3

6

1



2



6







4



6

2

5



6

3

1